


Petit itinéraire de découverte  
« Coucou les p'tits cailloux »

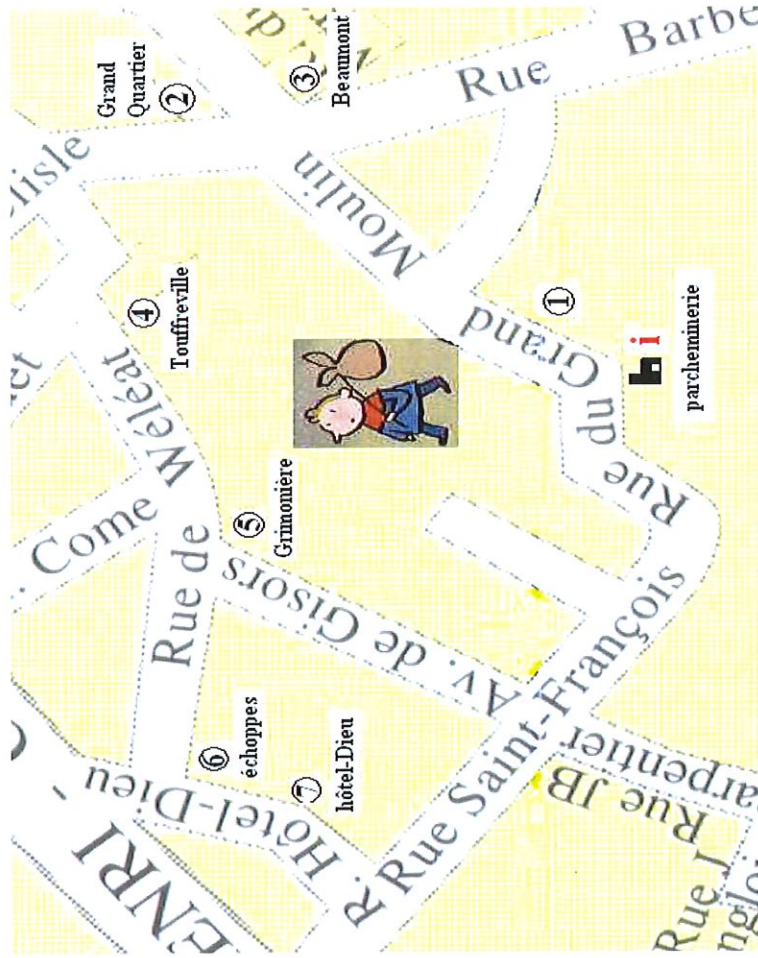
## Les Maisons anciennes de Valognes



PAYS D'ART ET D'HISTOIRE  
« LE CLOS DU COTENTIN »



Pour t'aider à repérer les lieux où tu dois te rendre,  
utilise le plan à l'arrière de ce livret.



- 1 – La rue du Grand Moulin et la Parcheminerie
- 2 – Le Grand Quartier (Musée du Ciâtre)
- 3 – L'hôtel de Beaumont, rue du Petit Versailles
- 4 – L'hôtel de Touffreville, rue de Wéléat
- 5 – L'hôtel de la Grimonière, rue de Wéléat
- 6 – Maisons à échoppes, rue de l'hôtel-Dieu
- 7 – Hôtel-Dieu

Pays d'art et d'histoire  
du Clos du Cotentin  
21 rue du Grand Moulin  
Tél.: 02.33.95.01.26

Office de Tourisme  
Rue de l'église  
02.33.40.11.55

Pour participer à ce jeu-découverte,  
tu as simplement besoin d'un crayon.




Amuse-toi bien !

Merci de respecter les lieux où tu te rendras.

## LA RUE DU GRAND MOULIN

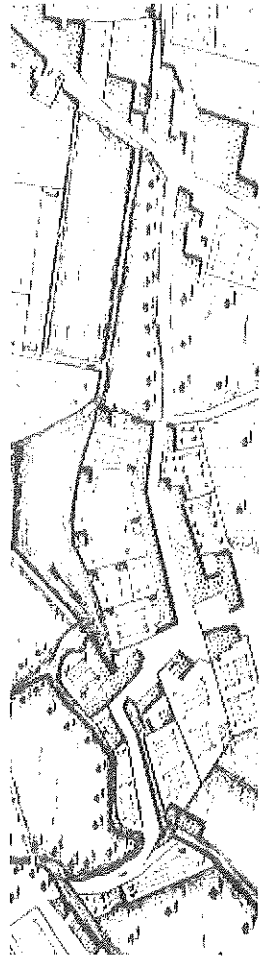
La rue du Grand Moulin est une des plus anciennes rues de Valognes. Elle fut un important quartier artisanal.

1—Quelle était l'activité principale dans cette rue à l'époque médiévale ?



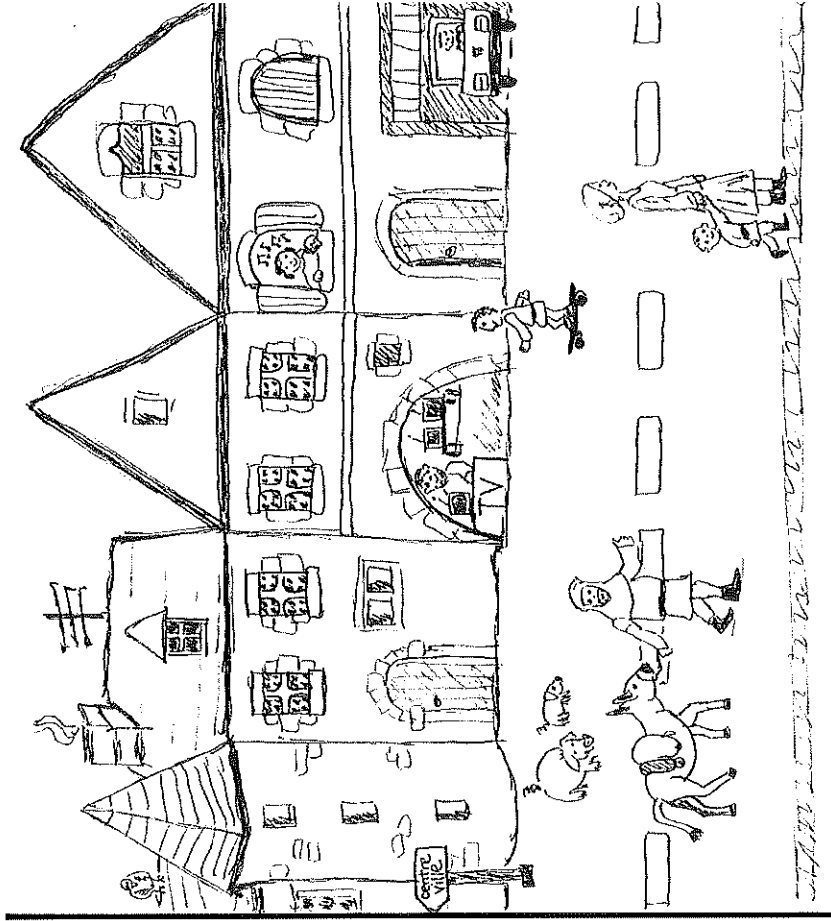
tailleur de pierre     tanneur     maçon

2—Quel élément visible sur le plan de la rue, était indispensable à ces activités artisanales et au fonctionnement du Grand Moulin de Valognes ?



Ce dessin représente une rue de Valognes au Moyen-âge.

24—Sept anomalies s'y sont glissées, sauras-tu les retrouver ?



1—  
2—  
3—  
4—  
5—  
6—  
7—

Et toi dans laquelle de ces maisons préférerais-tu vivre ?




## L'HÔTEL-DIEU

22—Sais-tu quelle était au Moyen-âge la fonction du bâtiment qui abrite aujourd'hui le Centre Culturel de Valognes ?

- Un hôtel particulier
- Un hôtel de voyageurs
- Un Hôtel Dieu
- Une abbaye

23 - Sais-tu à qui était destiné ce type d'établissement ?

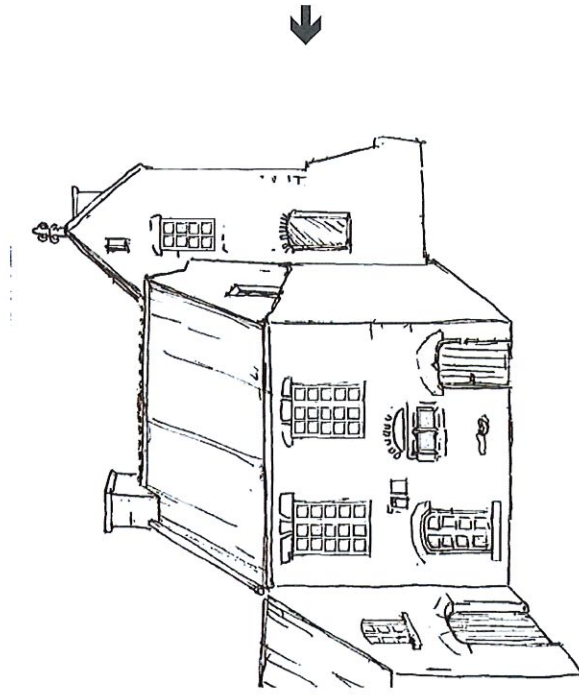
- Aux malades
- Aux lépreux
- Aux pèlerins
- Aux voyageurs
- Aux pauvres
- Aux orphelins



3— Le bâtiment qui abrite aujourd'hui la Maison du Patrimoine était une parcheminerie. Sais-tu à quoi servait le parchemin que l'on y fabriquait ?

- à recouvrir les murs des maisons
- à allumer la cheminée
- à écrire des documents
- à relier des livres

4—Sais-tu ce que la tour de la Parcheminerie sert à abriter



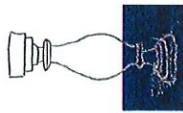
- Un colombier
- Un escalier
- Une salle de guet
- Des sanitaires

## LE GRAND QUARTIER


L'édifice qui longe la rivière du Merderet et abrite aujourd'hui le Musée du Cidre se nomme le « Grand Quartier ». Il fut la maison d'un artisan teinturier de la fin du Moyen Âge.

5—Repère parmi les différents dessins ci-dessous, les éléments d'architecture qui appartiennent à la Maison du Grand Quartier :

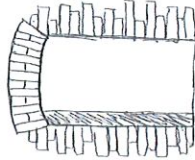
A/



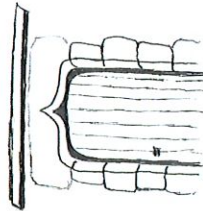
B/




C/



D/



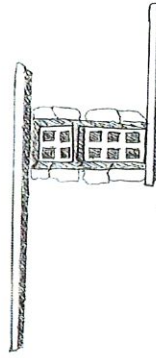
F/



E/

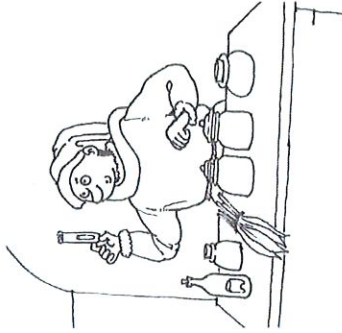


G/

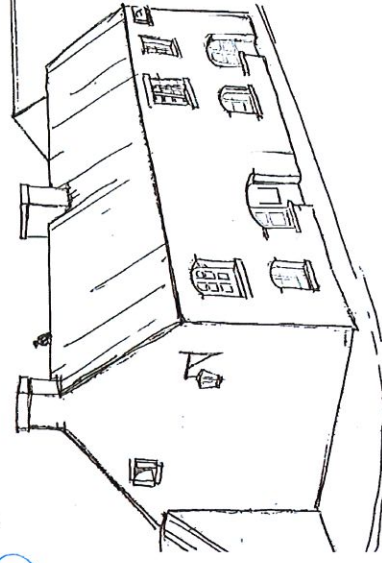


20—Parmi cette liste de commerces qui existaient dans le Valognes de l'ancien temps, raye les intrus qui s'y sont glissés :

- Orfèvre — Photographe
- Apothicaire (pharmacien) -
- Tabatier — Boulanger -
- Chapelier — Electricien
- Parcheminier — Perruquier
- Opticien — Boutonnier



21—Aide ce pigeon à retrouver l'entrée de sa maison, et montre à ce monsieur où il peut trouver l'objet qui lui indique l'heure :





# L'HÔTEL DE BEAUMONT

L'hôtel de Beaumont est le plus prestigieux des hôtels particuliers de Valognes.

8—Sais-tu qu'est-ce qu'un hôtel particulier ?

Une maison d'accueil pour les voyageurs

La maison d'un aristocrate ou d'un riche bourgeois

Un immeuble divisé en plusieurs appartements

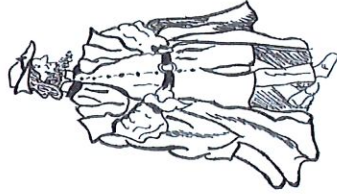
9—A ton avis, lequel de ces personnages pourrait en avoir commandé la construction ?



Charles Jallot  
De Beaumont  
(1626-1722)



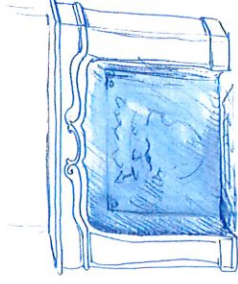
Franck Beaumont  
(né en 1986)



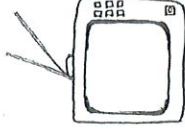
Guillaume de Beaumont  
(1494—1576)

17—Parmi ces objets, entoure ceux que l'on trouvait jadis dans l'hôtel de la Grimonière.

La cheminée



le bougeoir



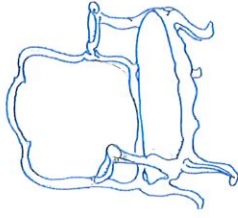
la télévision




la lampe électrique



le téléphone





Le fauteuil




Les toilettes

## RUE DE L'HOTEL DIEU

Dans la rue de l'hôtel-Dieu, on peut noter la présence de maisons dites « à échoppes ».




6—Que trouve t-on dans les petits appentis qui sont au dessus de la rivière le Merderet ?



- Des latrines (toilettes)
- Des évier
- Des placards à chaussures
- la poubelle

7 - Sais-tu à quoi servaient les bandeaux de pierre qui encadrent certaines fenêtres des maisons du Grand Quartier ? Entoure la bonne réponse.



- A poser des fleurs
- A accrocher l'enseigne
- A faire coulisser des volets
- A l'écoulement des eaux de pluies

18—Dans quelle catégorie de maisons les rangerais-tu?

- Maisons de commerçants
- Hôtels particuliers
- Manoirs
- Maisons d'artisans

19— Sais-tu à quoi servaient ces maisons à échoppes ? Coche la bonne réponse :

- à faire sécher le linge
- à vendre sur un étal les produits des commerçants
- à loger les animaux domestiques

# L'HÔTEL DE TOUFFREVILLE

Rue de Wéléat

11—A ton avis, à l'époque de quel roi de France, l'hôtel de Touffreville a-t-il été construit ?



Saint Louis  
(1214-1270)

François Ier  
(1515—1547)

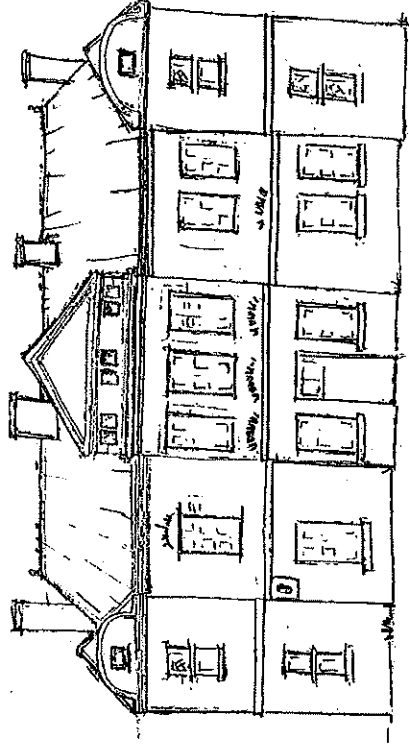
Louis XIII  
(1610—1643)

12— Relie au dessin de l'hôtel de Touffreville, les éléments d'architecture notés ci-dessous :

Fronton triangulaire

Corniche

Fronton arrondi

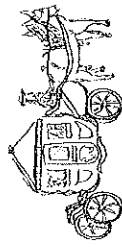


Pavillon central

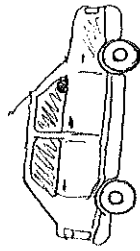
Avant-corps

Bandeau horizontal

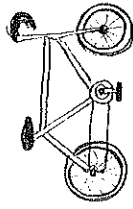
13—A quel véhicule était destiné le portail qui se situe à gauche de l'hôtel de Touffreville ?



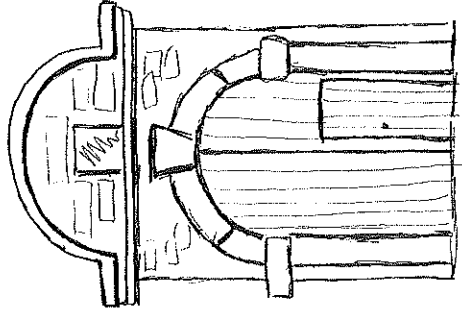
aux carrosses



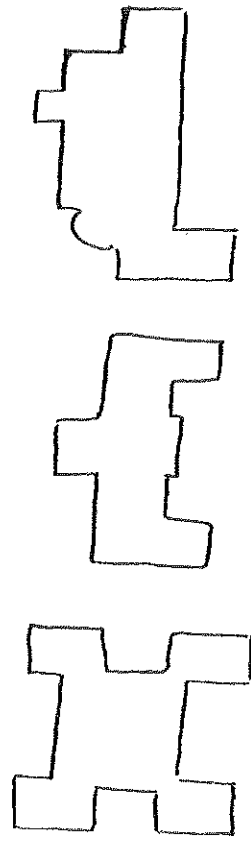
aux voitures



aux vélos



14— Parmi ces dessins, lequel représente le plan de l'hôtel de Touffreville ?



N° 1

N° 2

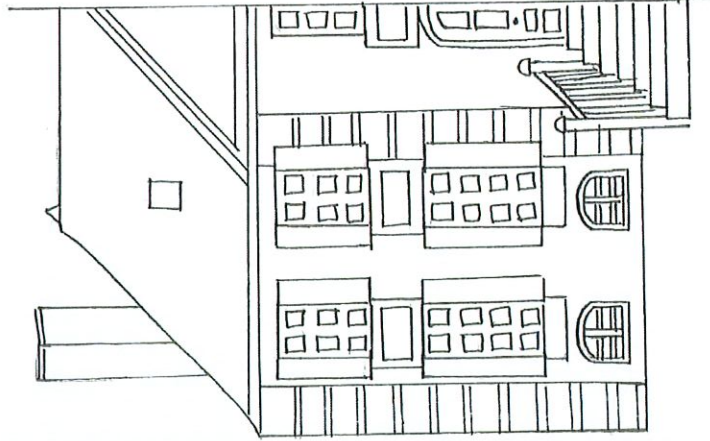
N° 3

# L'HÔTEL DE LA GRIMONIERE

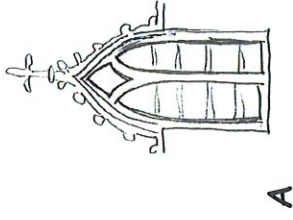
## Rue de Wéléat

L'hôtel de la Grimonière est « un hôtel dans un parc ».

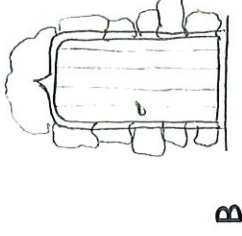
15— Sachant que cet hôtel est symétrique, arriveras-tu à en dessiner l'autre moitié ?



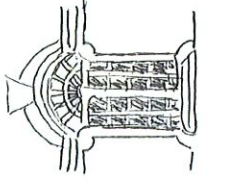
10— Sais-tu retrouver parmi les différents dessins ci-dessous, les éléments d'architecture qui appartiennent à l'hôtel de Beaumont ?



A



B



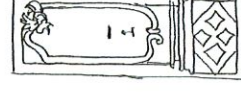
C



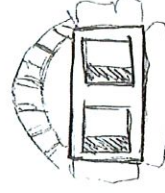
D



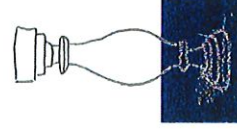
E



G



F



H

16— Dans quelle famille d'hôtel le rangerais-tu ?

Un hôtel dans un parc

Un hôtel à façade sur rue

Un hôtel entre cour et jardin